

# 100 北北基高中職聯合入學測驗

## 社會科題本

請不要翻到次頁！

讀完本頁的說明，聽從監試委員的指示才開始作答！

※請先確認你的答案卡、准考證與座位號碼是否一致無誤。

請閱讀以下測驗作答說明：

### 測驗說明：

這是北北基高中職聯合入學測驗社會科題本，題本採雙面印刷，共 **13** 頁，有 **63** 題選擇題，每題都只有一個正確或最佳的答案。測驗時間從 **11:00** 到 **12:10**，共 **70** 分鐘。作答開始與結束請聽從監試委員的指示。

### 注意事項：

1. 所有試題均為四選一的選擇題，答錯不倒扣。
2. 試題中所附圖形，如有附上比例尺，以比例尺為依據作答；若無比例尺，則該圖僅作為參考，不代表實際大小。
3. 可利用題本中空白部分計算，切勿在答案卡上計算。
4. 依試場規則第八條規定，答案卡上不得書寫姓名座號，也不得做任何標記。故意汙損答案卡、損壞試題本，或在答案卡上顯示自己身分者，該科測驗不予計分。

### 作答方式：

請依照題意從四個選項中選出一個正確或最佳的答案，並用 **2B** 鉛筆在答案卡上相應的位置畫記，請務必將選項塗黑、塗滿。如果需要修改答案，請使用橡皮擦擦拭乾淨，重新塗黑答案。例如答案為 **B**，則將 **②** 選項塗黑、塗滿，即：**① ● ③ ④**

以下為錯誤的畫記方式，可能導致電腦無法正確判讀。如：

- ① ● ② ③ ④ — 未將選項塗滿
- ① ② ③ ④ — 未將選項塗黑
- ① ● ③ ④ — 未擦拭乾淨
- ① ● ② ③ ④ — 塗出選項外
- ① ● ● ③ ④ — 同時塗兩個選項

請聽到鈴（鐘）聲響後，於題本右上角方格內填寫准考證末兩碼，再翻頁作答

一、單題：(1~55 題)

1. 「該國火山活動頻繁，冰河地形發達，漁產為其最大宗的出口貨品；除了海洋漁業外，居民也充分利用地熱和溫泉等資源，從事養殖漁業。」上文所指的國家最可能是下列何者？

(A)日本  
(C)冰島

(B)挪威  
(D)義大利

2. 行政院為落實節能減碳政策，自2009年起提高太陽能熱水器設置的補助費，以鼓勵民眾安裝，但某些地區受限於雨日過多、日照不足，使得熱水器無法有效運作，而降低當地民眾安裝的意願。若僅考慮上述條件，下列哪一地區的居民，安裝太陽能熱水器的意願最低？

(A)臺東  
(C)彰化

(B)高雄  
(D)基隆

3. 2009年10月設立的台江國家公園，位於臺南地區，包含陸地與海洋區域，有豐富的自然景觀與生態資源，以及臺灣早期移民遺留的人文史蹟。若參加該國家公園的圖徽設計比賽，在圖徽中出現下列哪一種地形最符合當地的地理特色？

(A)谷灣  
(C)斷層崖

(B)沙洲  
(D)珊瑚礁

4. 圖(一)為臺灣各地楓葉轉紅日期預測圖，是根據氣溫變化推算繪製而成。圖中各地日期的差異最主要是和下列何種因素有關？

(A)高度  
(B)洋流  
(C)距海遠近  
(D)盛行風向



圖(一)

5. 長江自上游攜帶泥沙至中、下游，最後沉積在出海口附近。而三峽大壩完成後，在下列哪一城市附近，最有可能因為泥沙供應減少而發生海岸後退的現象？

(A)天津  
(B)上海  
(C)廈門  
(D)廣州



6. 某一本遊記中寫到：「這次的旅程很充實，我在沙漠中看到了古代帝王的陵墓，高聳入雲；陵墓內的牆壁上刻畫有動物或器物形象的文字，靜穆中有著幾分神秘感。」此遊記中所描述的古代遺跡，最有可能是下列何者？

(A)埃及金字塔  
(B)柬埔寨吳哥窟  
(C)希臘帕德嫩神廟(殿)  
(D)土耳其聖索非亞教堂

7. 圖(二)是臺灣三個史前文化遺址的分布圖，若依文化存在年代的先後順序排列，下列何者正確？

(A)甲 → 乙 → 丙  
(B)乙 → 丙 → 甲  
(C)丙 → 乙 → 甲  
(D)乙 → 甲 → 丙



圖(二)

8. 有位十九世紀的詩人曾說，在義大利統一過程中，有三位當代人物對國家統一作出重要的貢獻：加富爾相當於義大利的腦袋，主導外交策略；加里波底象徵義大利的利劍，達成軍事任務；下列何人則象徵義大利的靈魂，激發民族意識？

(A)俾斯麥  
(B)馬志尼  
(C)佩脫拉克  
(D)墨索里尼

9. 老師向同學介紹早期臺灣漢人政權的文教措施，他最適合運用下列哪一項資料做說明？

(A)平埔族語編寫成的契約  
(B)東印度公司的工作日誌  
(C)「公學校」的招生說明  
(D)籌設第一座孔廟的奏議

10. 表(一)是某一船隊的介紹，從其中資訊判斷，此船隊應與下列何者有關？

(A)鄭和下西洋  
(B)鄭成功攻臺  
(C)達伽馬東來亞洲  
(D)麥哲倫環繞世界

表(一)

時間	1405年~1433年
航行次數	7次
船隊規模	約二百多艘
人數	約二萬餘人
航行海域	東海、南海、印度洋、紅海

11. 颱風來襲導致賀奇市淹水成災，由於市府消防隊員的疏失，造成部分民眾傷亡，事後，賀奇市市長為此宣布辭職。上述市長的做法最符合民主政治的哪一種內涵？

(A)民意政治

(B)法治政治

(C)責任政治

(D)政黨政治

12. 表(二)是老師在課堂上用 來講解《民法》部分條文的整理。根據表中條文內容修改前後的差異來判斷，下列何者符合其修改的主要意旨？

表(二)

修改前部分條文	修改後部分條文
妻以夫之住所為住所。	夫妻之住所，由雙方共同協議之；……。
子女從父姓。但母無兄弟，約定其子女從母姓者，從其約定。	父母於子女出生登記前，應以書面約定子女從父姓或從母姓。

(A)強化社會規範效力

(B)健全兒童福利制度

(C)促進婚姻關係和諧

(D)保障性別平等權利

13. 透過民意代表代替人民行使權力的制度，有時可能無法完全反應人民的意志，所以許多國家會採取某些措施以補救該項缺失，進而直接達成「主權在民」的目標。下列哪一項措施最能達成上述目標？

(A)組織人民團體

(B)開放報禁黨禁

(C)落實言論自由

(D)舉行公民投票

14. 行政院為因應社會上日益嚴重的犯罪問題，舉辦跨領域的研討會，與會代表建議中央各院依其職權可採行的改善方案，如表(三)所示。根據表中內容判斷，哪一機關還具有「提出憲法修正案」的職權？

表(三)

機關	改善方案
甲	加速審判，伸張社會正義
乙	修改法律，加重犯罪刑罰
丙	糾正辦案不力的警政機關
丁	招考維護治安的警察人員

(A)甲

(B)乙

(C)丙

(D)丁

15. 右列報導是小祿閱讀某本舊雜誌的部分內容。根據內容判斷，作者最可能在討論下列哪一主題？

(A)生產技術改變

(B)所得分配不均

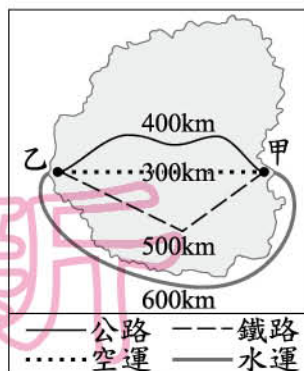
(C)消費型態多元

(D)經濟成長快速

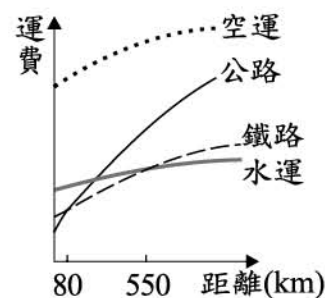
……中產階級的數量正在萎縮，家庭財富的中位數不升反降，而最底層20%人口的負債大於資產……然而大企業執行長薪資，30年前是勞工薪資的44倍，今日則增加為212倍。



16. 圖(三)是甲、乙二地相對位置的示意圖，圖中標示各種運輸方式往來二地間的最短距離。根據圖(四)各種運輸方式的運費判斷，由甲地運送小麥至乙地，選用哪一種運輸方式的運費最便宜？



圖(三)



圖(四)

17. 軍用迷彩服的目的是在於融入當地自然環境色彩，以求隱蔽而不被敵人發現，例如：在叢林區會穿著深綠色迷彩服、在雪地區會穿著灰白色迷彩服。依上所述，考量各國主要的自然環境，在下列哪一國家從事軍事活動時，軍隊最適合穿著米黃色的迷彩服？

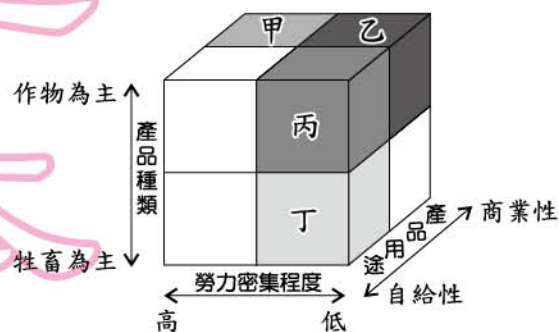
- (A) 北韓  
(B) 伊朗  
(C) 印尼  
(D) 俄羅斯

18. 2010年2月，智利發生規模8.8的強震。在憂心該國無法正常供應某種礦產的預期心理影響下，導致其市場價格上揚。根據圖(五)中南美洲重要礦產的分布判斷，上述礦產最可能是指下列何者？



圖(五)

19. 美國某一農作帶以生產小麥為主，由於耕地面積廣大，農民利用機械耕作、收割，小麥收成後除供國內製成麵粉外，也大量運銷國外。依圖(六)中的三種指標加以分類，上述農作帶最可能屬於圖中甲、乙、丙、丁哪一種農業類型？



圖(六)

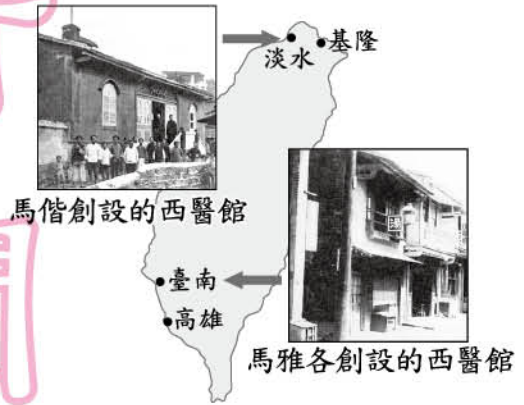
- (A) 甲 (B) 乙  
(C) 丙 (D) 丁

20. 有一個介紹日本的節目提到：「日本在八世紀建的奈良平城京，是仿效當時中國的都城而建造，城中的道路和住宅井然有序……。」依此推斷，平城京最可能是仿效下列何者而建？

(A)周代鎬京  
(B)漢代洛陽  
(C)唐代長安  
(D)明代南京

21. 圖(七)是家玲在臺灣史報告時所使用的圖片，依圖片內容判斷，報告的主題最可能是下列何者？

(A)荷西統治與南北開發  
(B)臺灣設省與劉銘傳的建設  
(C)開港後的傳教活動與醫療服務  
(D)日本統治時期官方醫療體制的建立



圖(七)

22. 西方有句諺語說：「羅馬不是一天造成的。」羅馬人不僅發明了混凝土，並大量興建引水道、道路等公共設施，使當時羅馬成為一個結構宏偉而功能齊全的城市。這些建設成就最主要反映出羅馬文化具有下列哪一種特性？

(A)重視哲學思辯  
(B)重視實用技術  
(C)重視人神關係  
(D)重視生態平衡

23. 對臺灣史上某事件的發生，有學者作如下的解釋：「統治者為了掌控廣大的森林資源，將原住民賴以維生的土地收為官有林地，禁止打獵、耕種，也限制其活動範圍。之後，更配合警察制度，欺凌壓榨原住民，原住民常被動員從事沉重的勞役，加上諸多不合理的對待，終於引爆了大規模的抗爭。」此事件最可能是下列何者？

(A)霧社事件  
(B)郭懷一事件  
(C)牡丹社事件  
(D)二二八事件

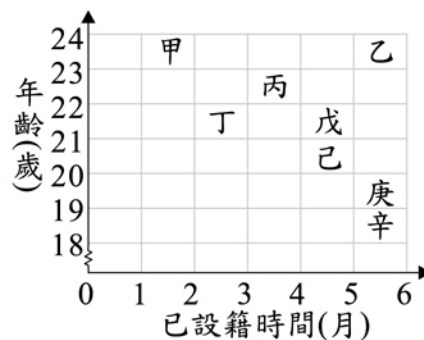
24. 某書的簡介如下：「書中描寫一場革命結束了長達三百多年的沙皇專制統治，成立臨時政府，但在八個月之後，布爾什維克革命又推翻了曇花一現的臨時政府。」此書最可能是下列何者？

(A)《1789年法蘭西的革命》  
(B)《1871年德意志的崛起》  
(C)《1917年變動的俄羅斯》  
(D)《1949年共產中國誕生》



25. 對於即將舉辦的民意代表選舉，八位年輕人心  
中各有支持的理想候選人，圖(八)是他們在投票  
日當天的投票資格示意圖。由圖中資訊判斷，  
下列哪一組人皆能參與投票？

- (A)甲、乙  
(B)丙、丁  
(C)戊、己  
(D)庚、辛



圖(八)

26. 新聞報導：「颱風天時常見民眾前往海邊觀浪、衝浪，若經執法人員勸導後，民眾仍在海邊逗留或從事活動，主管機關可依法對違規者開單處罰。」依我國《憲法》規定判斷，上述政府限制人民權利的理由，最可能與下列何者相同？

- (A)不得任意拆閱他人信件  
(B)不得隨處棄置汙染物品  
(C)不得違規停放個人車輛  
(D)不得進入警匪槍戰現場

27. 小智參加反賄選海報比賽，圖(九)是作品的部分初稿。根據圖中內容判斷，小智尚未完成的部分最可能是下列何者？

- (A)處以罰鍰  
(B)接受感化教育  
(C)處以有期徒刑  
(D)負起損害賠償責任

**全民檢舉賄選**  
**檢舉獎金最高1000萬元！**

賣票：  ，  
得併科罰金。

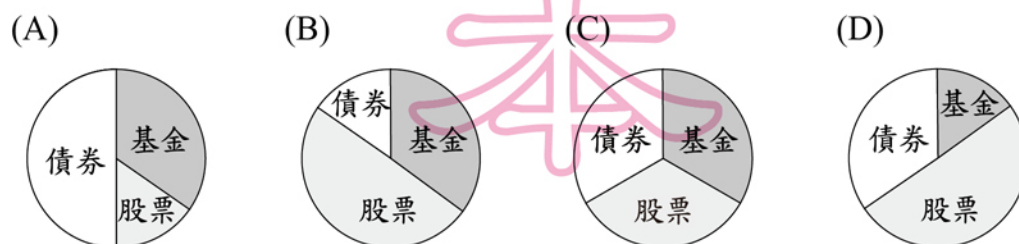
買票：  ，  
得併科罰金。

圖(九)

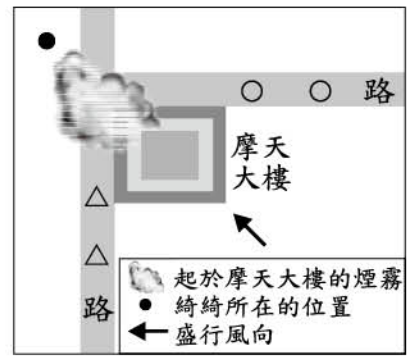
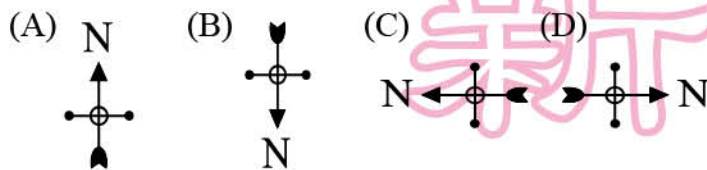
28. 香香高中畢業後參加公務人員考試，後來她通過考試，在政府機關擔任行政人員。上述香香的行為，是行使下列哪一類型的人民基本權利？

- (A)平等權 (B)自由權  
(C)受益權 (D)參政權

29. 阿貴在股市的投資因受到金融風暴影響而損失，為此他選擇理財工具的策略轉趨保守，希望藉由調整理財工具的配置，將投資風險盡可能降低。若將各種理財工具的比例以圖形呈現，下列何者最符合他的需求？



30. 綺綺一家人於跨年夜時欣賞臺北市某摩天大樓施放的煙火秀，但受到臺灣該季節盛行風向影響，煙火被煙霧擋住，因此大部分時間看不到美麗的煙火，如圖(十)所示。根據上文判斷，此圖的方位標示為下列何者？



圖(十)

31. 「澳洲因距離各大洲相當遙遠，動植物得以長時間獨立演化，有只能走而不能飛的鳥，有只用雙腳行走的蜥蜴，有腳上長蹼的老鼠，真是個『珍貴動物博物館』。」上文所述之現象與下列何者關係最為密切？  
 (A) 大分水嶺山脈阻隔澳洲東西交通  
 (B) 澳洲熱帶沙漠面積廣大難以進入  
 (C) 澳洲是鄰近水半球中心的古陸塊  
 (D) 澳洲與南極洲之間的距離較接近
32. 「由印度洋吹來的東風抵達這座位於赤道附近的世界名山之後，水氣在陡然上升的過程中凝結，因此高聳入雲的山頂白雪皚皚，形成『赤道雪峰』的奇觀。」上述名山應是位在下列何處？  
 (A) 非洲  
 (B) 亞洲  
 (C) 歐洲  
 (D) 南美洲
33. 在冬季時，某些動物會以冬眠或遷移等方式，來度過低溫造成的生存危機。而近年來北半球常觀察到棕熊延後冬眠、候鳥延後南飛的現象，代表地球上已有部分生物因為外在環境改變而調整其行為模式與生活習性。下列何者和上述外在環境改變的形成最有關係？  
 (A) 工業化程度提高  
 (B) 沙塵暴頻率增加  
 (C) 漁業資源的減少  
 (D) 臭氧層破洞擴大
34. 思萍完成一篇描述某朝代的報告，其中提到三次大規模西征、火藥與紙幣的西傳、忽必烈的定都、種族的區分等。下列何者最適合作為這篇報告的標題？  
 (A) 華夷一家：胡漢融合的盛世  
 (B) 馬上得天下：草原民族的統治  
 (C) 兵馬俑的世界：一統帝國的出現  
 (D) 舊王朝的餘暉：西方勢力的東來



35. 清朝統治時期，臺灣民變與械鬥迭起，社會動盪不安。當時械鬥頻傳，其主要原因最可能為下列何者？
- (A)來臺移民爭奪土地水源及利益，因而聚眾結黨鬥毆  
(B)外國商人壟斷經濟大權，郊商難以競爭而爆發衝突  
(C)統治階層濫徵雜稅，官吏因稅收分配不均相互爭鬥  
(D)原住民土地遭到洋人侵占，生活窘困被迫武力抗爭
36. 許多大型活動都會設計獨特的圖案和口號，一方面宣示主張，一方面加強印象，政治活動也是如此。下列何者是五四運動時的代表性口號？
- (A)外爭主權，內除國賊  
(B)停止剿共，一致抗日  
(C)推翻滿清，建立民國  
(D)革命無罪，造反有理
37. 曉芬在一篇報告中寫到：「1950年代，臺灣正處於戒嚴時期，政治管控嚴密。儘管如此，他仍主辦《自由中國》雜誌，持續宣揚自由、民主理念。1960年，他更因籌備組織政黨，而遭到政府逮捕、判刑。」文中的「他」是指下列何人？
- (A)陳儀  
(B)胡適  
(C)雷震  
(D)蔣渭水
38. 小光正在進行一場益智遊戲，須在其他條件不變的情況下，依所抽出卡片的內容，答出卡片中的現象將會對國內人民產生何種影響。若圖(十一)是小光抽到的卡片，他應回答下列何者才能順利過關？
- (A)儲蓄意願降低  
(B)減少使用信用卡  
(C)消費能力日漸提升  
(D)更願意擁有該國貨幣
39. 老邦：「我遇到……的麻煩事，不知該如何處理，你能給我一點建議嗎？」  
瑞奇：「這種類型的紛爭，你可以向該單位的上級機關提起訴願。」  
根據上述對話判斷，老邦最可能遇到下列哪一種情形？
- (A)客戶訂貨後卻不履行契約  
(B)在超市消費卻買到瑕疵品  
(C)誤傷他人而遭到提起公訴  
(D)被相關部門要求補繳稅款

#### 通貨膨脹

在接下來的一年中，貴國將發生通貨膨脹現象，物價將持續大幅上揚。



圖(十一)

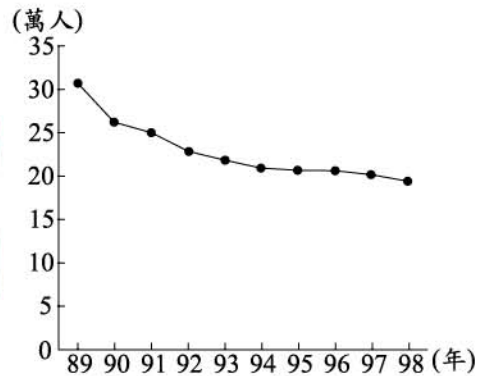
40. 小楓和小平合作生產蛋糕和蘋果派，每人同時只能製作其中一種商品，表(四)是他們的一日產量表。若依比較利益法則進行分工，小楓應負責生產蘋果派，而小平生產蛋糕。根據上述內容判斷，表(四)中的甲最可能為下列何者？

表(四)

	小楓	小平
蛋糕(天)	400個	300個
蘋果派(天)	500個	甲

- (A) 600個 (B) 500個  
(C) 400個 (D) 300個

41. 圖(十二)為民國89年至98年臺灣某項人口資料的變化圖，根據此圖的變化趨勢判斷，該項資料應是下列何者？



圖(十二)

42. 我國立法委員選舉採單一選區制，每一選區僅能有一位當選人，而各縣市所分配到的選區數多寡，是依照人口比例而定，與面積大小無關。根據上述內容判斷，下列哪一縣所分配到的立法委員席次最多？

- (A) 宜蘭縣  
(B) 桃園縣  
(C) 南投縣  
(D) 澎湖縣

43. 阿成是個國中生，對於學校社團生活的事情很有個人想法，常出現跟父母不同的意見，造成親子間的衝突。若阿成想尋求自由發展的空間，他最適合用下列何種方式來化解上述衝突？

- (A) 順從父母，以表孝心  
(B) 盡量溝通，消除歧見  
(C) 堅持己見，忠於自己  
(D) 表面妥協，暫時應付

44. 自2010年起，中國廣東省正式告別「暫住證」時代，近3,000萬的流動人口終於獲頒居住證，享受與當地常住居民同等的待遇，未來甚至可以申請成為常住戶口。近30年來，廣東省能吸引眾多流動人口移入，主要是受下列何項政策所影響？

- (A) 大躍進運動 (B) 西部大開發  
(C) 設經濟特區 (D) 實行一胎化



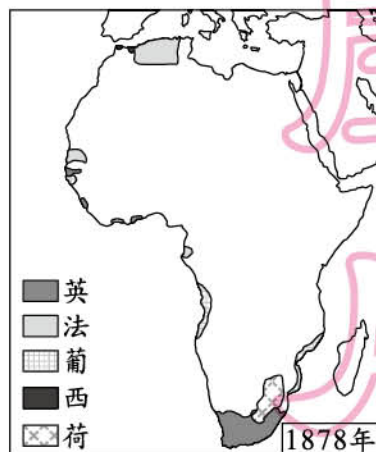
45. 青鋒將臺灣部分年代的流行音樂曲風歸類整理如表(五)，表中的內容最可能反映出下列哪一種現象？

表(五)

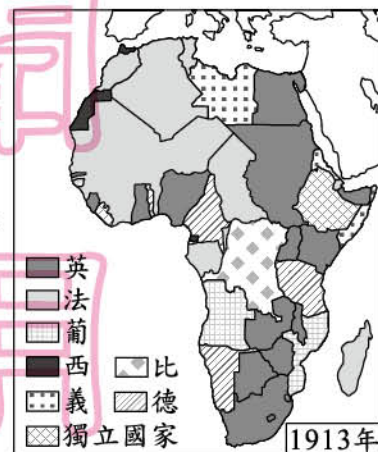
時 間	流行音樂曲風
1930年代	臺灣歌謠
1960年代	西洋音樂
1970年代	校園民歌
現 在	臺客風

- (A)社會文化的變遷  
(B)多元文化的衝突  
(C)傳統文化的傳承  
(D)外來文化的侵略

46. 圖(十三)、圖(十四)是曉莉在書上看到的插圖，這二幅圖的變化最能說明下列何者在非洲的發展？



圖(十三)



圖(十四)

- (A)鎖國政策  
(B)區域統合  
(C)美蘇冷戰  
(D)帝國主義

47. 青年學子為爭取《憲法》保障之人民基本權利，可能上街進行集會活動，例如1990年的「野百合學運」。上述青年學子的行為最可能是屬於下列何種概念的展現？

- (A)權力分立  
(B)政黨輪替  
(C)地方自治  
(D)政治參與

48. 在圖(十五)中，有一個地區自古便有「天府之國」的美稱，三國時代劉備曾在該地建立國家，而對日八年抗戰時也曾遷都至此區。這個地區應位於圖中何處？



圖(十五)

- (A)甲  
(B)乙  
(C)丙  
(D)丁

49. 北宋面對契丹、党項等外族入侵而本身軍事力量又不足以應付時，曾經運用多種方式加以因應，其中哪一種方式曾有效平息與契丹間的戰端，使得雙方維持了百餘年的和平？
- (A)封鎖國境：斷絕與外族的接觸  
(B)外交結盟：聯合西域諸國反擊  
(C)經濟嘉惠：每年供給外族銀、絹  
(D)締結婚姻：將公主嫁予外族君長
50. 1949年，中共解放軍擊退國民政府軍隊，先後取得廣州、廣西、貴州，最後攻陷雲南，來不及撤離的國民政府軍隊，只好從雲南西部的縱谷南下進入鄰國以伺機反攻。上文所指的鄰國為下列哪一個國家？
- (A)緬甸  
(B)柬埔寨  
(C)巴基斯坦  
(D)馬來西亞
51. 宜蘭地區與大臺北地區的距離因隧道的完工而縮短，因此，每逢假日宜蘭地區湧進許多人潮，連帶使當地的生產活動轉型，促進食品加工業、精緻農業、休閒觀光業的發展。根據上述內容，興建隧道對宜蘭地區產生下列哪一種影響？
- (A)增加當地推力，平衡人口分布  
(B)提供就業機會，改變產業結構  
(C)加速經濟發展，擴大城鄉差距  
(D)提升農產需求，偏重一級產業
52. 「1930年代，美國遭逢經濟危機，當時羅斯福政府受經濟學者凱因斯的理論影響，推動相關方案，以紓緩國內困境。」上述方案最可能是下列何者？
- (A)提高關稅，以保護本國產業  
(B)擴張殖民地，取得重要資源  
(C)企業收歸國營，實施共產主義  
(D)推展公共建設，以消費刺激經濟

53. 圖(十六)為中國某史前文化遺址的建築復原圖，依此建築判斷，此遺址最可能位在圖(十七)中的何處？

- (A)甲  
(B)乙  
(C)丙  
(D)丁



圖(十六)

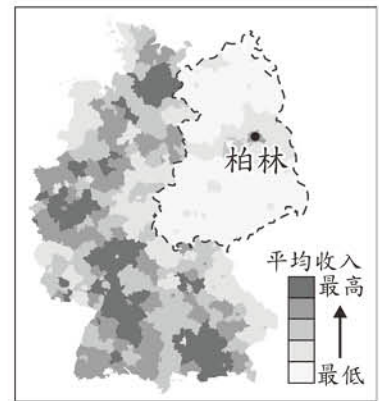


圖(十七)



54. 圖(十八)為2003年某國納稅者平均收入高低的分布，其中，低收入者明顯集中在虛線範圍內，這種現象主要是因為該區受下列何者的影響？

(A)地形崎嶇而交通不便  
(B)終年低溫且潮溼多雨  
(C)曾長期實施計畫經濟  
(D)殖民地式的經濟型態



圖(十八)

55. 某城市飽受空氣汙染之苦，為改善日漸嚴重的空汙問題，市長決定施行「週末無車日」的政策，藉由減少市區內行駛的車輛以改善空氣品質。下列哪一種方法是運用需求法則來達成此一政策目標？

(A)限制進城車輛數量  
(B)減少發放車輛牌照  
(C)增建對外聯絡道路  
(D)加收車輛進城費用

二、題組：(56～63 題)

閱讀下列選文，回答第 56 至 58 題：

烏來鄉位於臺北縣南端(已改制為新北市烏來區)，境內山高谷深，當地原住民族多為泰雅族人，因而設有烏來泰雅民族博物館，展覽該族相關的文物風俗。相傳三百多年前，該族族人狩獵至此，發現南勢溪冒出熱水與輕煙，齊呼「uraikirofu」，意為冒煙的熱水，這就是烏來地名的由來。近年因泡湯文化盛行，各式溫泉旅館在此林立，但有業者以低價向鄉公所承租河川地，後來卻未依照申請目的使用，反而違規建造溫泉飯店，經偵查後發現有圖利之嫌，相關單位人員已將違法者依法起訴。

56. 文中所述該族相關的文物風俗，最有可能包含下列何者？  
(A)公廨內的祀壺信仰  
(B)慶祝豐收的飛魚祭  
(C)祭祀矮靈的慶典活動  
(D)象徵成年的紋面習俗
57. 文中所述「冒出熱水與輕煙」的溪流應源自下列哪一山脈？  
(A)中央山脈  
(B)雪山山脈  
(C)玉山山脈  
(D)阿里山山脈
58. 文末提及的相關單位人員應是指下列何者？  
(A)法官  
(B)警察  
(C)檢察官  
(D)監察委員

閱讀下列選文，回答第 59 至 60 題：

哈克看著炮火下滿目瘡痍的故鄉，心想五千年來，人們在這裡居住，雖曾遭受過河水不定期的氾濫、改朝換代的屠殺掠奪，但依然創造出六十進位法、成文法典、一週七天制等重要的人類文化遺產。一千二百多年前，這裡更由一個輝煌的大帝國所統治，帝國的學術發達、科技進步、貿易繁盛。如今，部分千年古蹟已遭到戰火的破壞。想到這裡，哈克唯有祈求真主保佑和平降臨，別讓祂的子民再次蒙受苦難。

59. 今日哈克故鄉主要的氣候特徵最可能為下列何者？  
(A)四季分明 (B)氣候乾冷  
(C)乾熱少雨 (D)炎熱潮溼
60. 文中所提的大帝國，最可能是下列何者？  
(A)查理曼帝國 (B)阿拉伯帝國  
(C)拜占庭帝國 (D)亞歷山大帝國

閱讀下列選文，回答第 61 至 63 題：

抵達臺北縣瑞芳鎮侯硐里(已改制為新北市瑞芳區侯硐里)後，先往著名景點侯硐神社走去。雖然現今神社這類型的宗教遺址遍布全臺，但多數都與侯硐神社相同，無法完整的保留下來。

侯硐曾因煤礦礦坑關閉而沒落，但當地部分居民對流浪貓的關愛與照顧，所建立的人、貓信賴感，卻意外造成現今遊客聚集的場景。往街道方向走去，一路上遇見了許多來拍照與愛貓的遊客，與不畏人的貓咪玩成一片，這個小村落也因此找到全新的發展方向。

然而，近來出現飼主將貓遺棄在當地的情形，造成貓的數量逐漸失控，因此相關單位將以違反行政法規為由對這些飼主開罰，藉以維護侯硐舒適與安寧的環境。

61. 上述宗教遺址坐落全臺的現象，與下列何場戰役最有關係？  
(A)八國聯軍 (B)甲午戰爭  
(C)英法聯軍 (D)中法戰爭
62. 上文中造成現今遊客聚集侯硐的現象，最適合與下列何者用同一經濟學概念說明？  
(A)選擇生產甲產品，就不能生產乙產品  
(B)某公司生產甲產品比生產乙產品有利  
(C)附近停車場進行消毒，住家蚊蟲減少許多  
(D)汽車停放公用停車場需按時支付清潔費用
63. 上文中對飼主棄養貓的處罰方式，也可適用於下列何者？  
(A)拒絕償還債務的朋友 (B)竊取他人財物的小偷  
(C)允許兒童抽菸喝酒的父母 (D)拍賣盜版影音光碟的商人